

Takelajçı vəzifəsi üzrə test tapşırıqları

1. Yükləmə - boşaltmada və yüklərin daşınmasında hər bir fəhləyə (yeniyetməyə) düşən yük norması hansı qanunla tənzimlənir?

- A) Əmək Məcəlləsi haqqında qanunla
- B) Mühasibat uçotu haqqında qanunla
- C) Konstitusiyaya haqqında qanunla
- D) Texniki təhlükəsizlik haqqında qanunla
- E) Radiasiya təhlükəsizlik haqqında qanunla

Testin çətinlik dərəcəsi: asan

İstinad: S.Mamedov, Təhlükəsiz əmək şəraiti. Qanunlar, qərarlar, sənəd nümunələri, şərhlər. Bakı, 2008. Səh. 41

2. 16 yaşından 18 yaşına qədər olan yeniyetmələrin aşağıdakı hansı işlərə buraxılmaları qadağandır?

- A) Səpələnən yüklərin yüklənməsi
- B) 16 kiloqramlıq yüklərin yüklənməsi
- C) 10 kiloqramlıq yükün boşaldılması
- D) Yüngül qabların yüklənməsi
- E) Yüngül qabların boşaldılması

Testin çətinlik dərəcəsi: orta

İstinad: S.Mamedov, Təhlükəsiz əmək şəraiti. Qanunlar, qərarlar, sənəd nümunələri, şərhlər. Bakı, 2008. Səh. 41

3. Ədədlə daşınan yüklərin ümumi yığım hündürlüyü kuzovun bortlarının hündürlüyündən çox olduqda, yük nə ilə bərkidilməlidir?

- A) Metal kanatla
- B) Polad məftil ilə
- C) Kanat ya kəndirlə
- D) Polad trosla
- E) Polad zəncirlə

Testin çətinlik dərəcəsi: asan

İstinad: S.Mamedov, Təhlükəsiz əmək şəraiti. Qanunlar, qərarlar, sənəd nümunələri, şərhlər. Bakı, 2008. Səh. 41

4. Yeşik, çəllək və digər ədədlə olan yüklər kuzovun döşəməsinə dağılmaması üçün hansı qaydada yığılmalıdır?

- A) Üst-üstə yığılmalıdır
- B) Bir-birindən aralı yığılmalıdır
- C) İki cərgəyə yığılmalıdır
- D) Sıx yerləşdirilməlidir
- E) Üç sətərə yığılmalıdır

Testin çətinlik dərəcəsi: asan

İstinad: S.Mamedov, Təhlükəsiz əmək şəraiti. Qanunlar, qərarlar, sənəd nümunələri, şərhlər. Bakı, 2008. Səh. 41

5. Çəllək, baraban və rulonları avtomobil kuzovuna diyirlətməklə əl ilə yüklənməsinə hansı halda icazə verilir?

- A) Kuzov döşəməsinin səthi, anbarın döşəmə səthindən hündür olanda
- B) Anbar döşəməsinin səthi, kuzov döşəmə səthindən hündür olanda
- C) Anbar döşəməsinin səthi, kuzov döşəmə səthindən 1m hündür olanda
- D) Kuzov döşəməsinin səthi, anbarın döşəmə səthindən 1m hündür olanda
- E) Kuzov döşəməsinin səthi ilə anbarın döşəmə səthi eyni olanda

Testin çətinlik dərəcəsi: asan

İstinad: S.Mamedov, Təhlükəsiz əmək şəraiti. Qanunlar, qərarlar, sənəd nümunələri, şərhlər. Bakı, 2008. Səh. 42

6. Yüklə əl arabasında daşımaq üçün aşağıdakı hansı şərtlərə riayət edilməlidir?

- A) Yüklə tutumundan artıq yüklənməməlidir
- B) Yığılan yüklə bir bərabərdə olmamalıdır
- C) Yüklə tutumundan artıq yüklənməlidir
- D) Döşəməsi nasaz taxtadan olmalıdır
- E) Döşəməsi şüşə materialdan olmalıdır

Testin çətinlik dərəcəsi: asan

İstinad: S.Mamedov, Təhlükəsiz əmək şəraiti. Qanunlar, qərarlar, sənəd nümunələri, şərhlər. Bakı, 2008. Səh. 42

7. Qalaqlanan yükləri avtomobilin kuzovuna yüklədikdə hansı şərtlərə nəzərə alınmalıdır?

- A) Yüklə kuzovun bortlarından iki dəfə hündür olmalıdır
- B) Yüklə kuzovun bortları ilə eyni bərabərdə olmalıdır
- C) Yüklə kuzovun bortlarından üç dəfə hündür olmalıdır
- D) Yüklə sürücü kabinasından hündür olmalıdır
- E) Kuzovun sahəsi üzrə eyni bərabərdə yayılmamalıdır

Testin çətinlik dərəcəsi: asan

İstinad: S.Mamedov, Təhlükəsiz əmək şəraiti. Qanunlar, qərarlar, sənəd nümunələri, şərhlər. Bakı, 2008. Səh. 41

8. Yüklərin müəyyən vəziyyətdə dayanıqlığını təmin edərək, onların yerdəyişməsinin təhlükəsiz həyata keçirilməsi üçün istifadə olunan tərtibat necə adlanır?

- A) Domkrat
- B) Tara
- C) Yüktutucu tərtibat
- D) Qülləli kran
- E) Bucurqad

Testin çətinlik dərəcəsi: orta

İstinad: Əməyin Mühafizəsi haqqında Azərbaycan Respublikası Əmək və Əhalinin Sosial Müdafiəsi Nazirliyi Kollegiyasının 24.12.1999-cu il tarixli 25-3 №-li qərarı

9. İş prosesi zamanı (yüklərin qaldırılması, endirilməsi, aparılması və s.) yükqaldırıcı qurğu nəyin köməyi ilə yükə birləşdirilir?

- A) Qülləli kranın
- B) Bucurqadın
- C) Domkratın
- D) Yüktutucu tərtibatın
- E) Taranın

Testin çətinlik dərəcəsi: orta

İstinad: Əməyin Mühafizəsi haqqında Azərbaycan Respublikası Əmək və Əhalinin Sosial Müdafiəsi Nazirliyi Kollegiyasının 24.12.1999-cu il tarixli 25-3 №-li qərarı

10. Yüktutucu tərtibatların müxtəlif təyinatlı və konstruksiyalı olmaları nədən asılıdır?

- A) Yüklərin qiymətindən
- B) Yüklərin rəngindən
- C) Yüklərin miqdarından
- D) Yüklərin keyfiyyətindən
- E) Yüklərin ölçülərindən

Testin çətinlik dərəcəsi: asan

İstinad: Əməyin Mühafizəsi haqqında Azərbaycan Respublikası Əmək və Əhalinin Sosial Müdafiəsi Nazirliyi Kollegiyasının 24.12.1999-cu il tarixli 25-3 №-li qərarı

11. Universal yüktutucu qurğular hansılardır?

- A) İlməli yüktutucular
- B) Qreyferli yüktutucular
- C) Badyalı yüktutucular
- D) Çalovlu yük tutucular
- E) Kəlbətli yüktutucular

Testin çətinlik dərəcəsi: orta

İstinad: az.wikipedia.org/wiki/Takelaj (18.12.2018) / Takelaj haqqında məlumat

12. Dənəvər səpələnmiş yükləri hansı yüktutucu qurğu ilə qaldırmaq və nəql etmək olar?

- A) İlməli yüktutucular ilə
- B) Çalovlu yüktutucular ilə
- C) Kəlbətli yüktutucular ilə
- D) Tırtıllı yüktutucular ilə
- E) Qülləli yüktutucular ilə

Testin çətinlik dərəcəsi: asan

İstinad: <https://az.wikipedia.org/wiki/Takelaj> (18.12.2018) / Takelaj haqqında məlumat

13. Eyni ölçülü və çəkili yükləri qaldırmaq və nəql etmək üçün hansı yüktutucu qurğu nəzərdə tutulmuşdur?

- A) Tırtıllı yüktutucular
- B) Çalovlu yük tutucular
- C) Kəlbətli yüktutucular
- D) Qülləli yüktutucular
- E) İlməli yüktutucular

Testin çətinlik dərəcəsi: orta

İstinad: <https://az.wikipedia.org/wiki/Takelaj> (18.12.2018) / Takelaj haqqında məlumat

14. İlmələri istehsal edərkən hansı materialdan istifadə edilir?

- A) Alüminium və polad
- B) Çuqun, polad və mis
- C) Mis, çuqun və qurğuşun
- D) Polad və legirlənmiş polad
- E) Qurğuşun və alüminium

Testin çətinlik dərəcəsi: orta

İstinad: <https://az.wikipedia.org/wiki/Takelaj> (18.12.2018) / Takelaj haqqında məlumat

15. Qaldırıcılar və kranlar hansı yükqaldırıcı maşınlarla aiddir?

- A) Pnevmatik çarxlı
- B) Dəmir yolu, qülləli
- C) Tırtıllı, pnevmatik çarxlı
- D) Köməkçi yükqaldırıcılar
- E) Əsas yükqaldırıcılara

Testin çətinlik dərəcəsi: orta

İstinad: <https://az.wikipedia.org/wiki/Takelaj> (18.12.2018) / Takelaj haqqında məlumat

16. Tərpənən və tərpənməz bloklar sistemi və elastiki elementi olan qurğu necə adlanır?

- A) Polispas
- B) Yükqaldırıcılar
- C) Yükqaldırma mexanizmi
- D) Telfer
- E) İntiqal

Testin çətinlik dərəcəsi: orta

İstinad: <https://az.wikipedia.org/wiki/Takelaj> (18.12.2018) / Takelaj haqqında məlumat

17. Qaldırılan yükü iki-üç istiqamətdə yerini dəyişə bilən, bir neçə mexanizmdən ibarət olan mürəkkəb avadanlıq necə adlanır?

- A) Domkrat
- B) Kranlar
- C) Bucurqadlar
- D) Arabalar
- E) Maşınlar

Testin çətinlik dərəcəsi: asan

İstinad: <https://az.wikipedia.org/wiki/Takelaj> (18.12.2018) / Takelaj haqqında məlumat

18. Yükqaldırıcı maşınlarla yükün qaldırılması, nəql edilməsi və yekun endirilməsi prosesi necə adlanır?

- A) Boş gediş
- B) Dolu gediş
- C) İşçi gediş
- D) Əməliyyat
- E) Hərəkət

Testin çətinlik dərəcəsi: orta

İstinad: <https://az.wikipedia.org/wiki/Takelaj> (18.12.2018) / Takelaj haqqında məlumat

19. Yükqaldırıcı maşın qaldırılmış yükü endirəndən sonra növbəti yükü qaldırmaq üçün əks gediş necə adlanır?

- A) İşçi gediş
- B) Dolu gediş
- C) Hərəkət
- D) Boş gediş
- E) Əməliyyat

Testin çətinlik dərəcəsi: orta

İstinad: <https://az.wikipedia.org/wiki/Takelaj> (18.12.2018) / Takelaj haqqında məlumat

20. Təyinatına görə yükqaldırıcı maşınlar hansılardır?

- A) Əsas və qülləli
- B) Köməkçi və tırtıllı
- C) Pnevmatik çarxlı
- D) Dəmir yolu, qülləli
- E) Əsas və köməkçi

Testin çətinlik dərəcəsi: orta

İstinad: <https://az.wikipedia.org/wiki/Takelaj> (18.12.2018) / Takelaj haqqında məlumat

21. Yükqaldırıcı maşınların işi əsasən nədən ibarətdir?

- A) Yükün qaldırılmasından və endirməsindən
- B) Yükün yerə endirilməsindən və təmirindən
- C) Yükün təmirindən və rənglənməsindən
- D) Yükün rənglənməsindən və nəql edilməsindən
- E) Yükün qaldırılmasından və təmirindən

Testin çətinlik dərəcəsi: asan

İstinad: <https://az.wikipedia.org/wiki/Takelaj> (18.12.2018) / Takelaj haqqında məlumat

22. Domkrat və bucurqadlar hansı yükqaldırıcı maşınlarla aiddir?

- A) Əsas yükqaldırıcılara
- B) Köməkçi yükqaldırıcılara
- C) Tırtıllı, pnevmatik çarxlılara
- D) Pnevmatik çarxlılara
- E) Dəmir yolu, qülləli

Testin çətinlik dərəcəsi: orta

İstinad: <https://az.wikipedia.org/wiki/Takelaj> (18.12.2018) / Takelaj haqqında məlumat

23. Hansı növ yükqaldırıcı kranlarda, yüktutan orqan iki dayaqda bərkidilmiş kanatlar üzrə yerini dəyişdirən yük arabasına asılmışdır?

- A) Tırtıllı kranlarda
- B) Çarxlı kranlarda
- C) Kabelli kranlarda
- D) Qülləli kranlarda
- E) Körpülü kranlarda

Testin çətinlik dərəcəsi: orta

İstinad: <https://az.wikipedia.org/wiki/Takelaj> (18.12.2018) / Takelaj haqqında məlumat

24. Köməkçi yükqaldırıcı maşınlar əsasən nə üçün tətbiq olunur?

- A) Yükə baxış keçirmək üçün
- B) Yükün endirilməsi üçün
- C) Yükün qaldırılması üçün
- D) Quraşdırma və təmir üçün
- E) Yükün nəql edilməsi üçün

Testin çətinlik dərəcəsi: orta

İstinad: <https://az.wikipedia.org/wiki/Takelaj> (18.12.2018) / Takelaj haqqında məlumat

25. Dönmə kranlar, körpülü kranlar, dəmiryol kranları, tırtıllı və kabel kranları, qülləli və suda üzən kranlar hansı qrupa daxildir?

- A) Qaldırma mexanizmlərinə
- B) Qaldırıcılara
- C) Elektrik intiqallarına
- D) Mühərrikli maşınlara
- E) Kranlara

Testin çətinlik dərəcəsi: asan

İstinad: <https://az.wikipedia.org/wiki/Takelaj> (18.12.2018) / Takelaj haqqında məlumat

26. Əsas yükqaldırıcı maşınlara hansılar aiddir?

- A) Qaldırıcılar və kranlar
- B) Kranlar və domkrat
- C) Domkrat və tırtıllılar
- D) Bucurqadlar və tırtıllılar
- E) Domkrat və bucurqadlar

Testin çətinlik dərəcəsi: orta

İstinad: <https://az.wikipedia.org/wiki/Takelaj> (18.12.2018) / Takelaj haqqında məlumat

27. Kəlbətli, çalovlu, badyalı və qreyferlər hansı yüktutucu qrupuna aiddir?

- A) Ədədi yüktutucular
- B) Xüsusi yüktutucular
- C) Ümumi yüktutucular
- D) Universal yüktutucular
- E) Səpələnmiş yüktutucular

Testin çətinlik dərəcəsi: orta

İstinad: <https://az.wikipedia.org/wiki/Takelaj> (18.12.2018) / Takelaj haqqında məlumat

28. Bucurqadlar, domkratlar, polispastlar, elektrik talları və s. hansı qrupa daxildir?

- A) Yük qaldırıcı kranlar
- B) Sadə mexanizmlər
- C) Qaldırıcı mexanizmlər
- D) Elektrik intiqalları
- E) Mühərrikli yükqaldırıcı maşınlar

Testin çətinlik dərəcəsi: asan

İstinad: <https://az.wikipedia.org/wiki/Takelaj> (18.12.2018) / Takelaj haqqında məlumat

29. Yükün ancaq şaquli istiqamətdə qaldırılmasını və barabanın simmetrik yüklənməsini saxlamaq üçün hansı polispastlar tətbiq edilir?

- A) Altılı polispastlar
- B) Dördlü polispastlar
- C) Üçlü polispastlar
- D) İkili polispastlar
- E) Beşli polispastlar

Testin çətinlik dərəcəsi: orta

İstinad: <https://az.wikipedia.org/wiki/Takelaj> (18.12.2018) / Takelaj haqqında məlumat

30. Bloklar yükqaldırıcı maşınlarda nə üçün tətbiq edilir?

- A) Elastik üzvün möhkəmliyini artırmaq üçün
- B) Elastik üzvün möhkəmliyini azaltmaq üçün
- C) Elastik üzvün enini artırmaq üçün
- D) Elastik üzvün uzunluğunu artırmaq üçün
- E) Elastik üzvün istiqamətini dəyişmək üçün

Testin çətinlik dərəcəsi: orta

İstinad: <https://az.wikipedia.org/wiki/Takelaj> (18.12.2018) / Takelaj haqqında məlumat

31. Kanatların konstruksiyaları bir-birindən necə fərqlənir?

- A) Məftillərin sarınma istiqamətinə görə
- B) Məftillərin sayına görə
- C) Məftillərin uzunluğuna görə
- D) Məftillərin diametrinin qalınlığına görə
- E) Məftillərin sərtliyinə görə

Testin çətinlik dərəcəsi: asan

İstinad: <https://az.wikipedia.org/wiki/Takelaj> (18.12.2018) / Takelaj haqqında məlumat

32. Çatılarının sonunda qurulmuş təkərlər vasitəsilə yerdə düzəldilmiş relsli yollar üzərində hərəkət edən kran necə adlanır?

- A) İnşaat kranı
- B) Çatılı kran
- C) Qülləli kran
- D) Körpülü kran
- E) Avtomobil kranı

Testin çətinlik dərəcəsi: asan

İstinad: <https://az.wikipedia.org/wiki/Takelaj> (18.12.2018) / Takelaj haqqında məlumat

33. İşə başlamazdan əvvəl takelajçı nəyi bilməlidir?

- A) Yük tutan vasitələrin keyfiyyətini
- B) Yükün sayını
- C) Yükün ağırlığını
- D) Yük tutan vasitələrin sazlığını
- E) Yük tutan vasitələrin markasını

Testin çətinlik dərəcəsi: asan

İstinad: <https://az.wikipedia.org/wiki/Takelaj> (18.12.2018) / Takelaj haqqında məlumat

34. İlmələmə əməliyyatının mahiyyəti nədən ibarətdir?

- A) Yükün nəqlində yaranan səslərin qarşısını almaqdan
- B) Yükün nəqləmə sürətini azaltmaqdan
- C) Yükqaldırıcı qurğunun etibarlığını artırmaqdan
- D) Nəql edilən yükü yükqaldırıcı orqana bağlamaqdan
- E) İlmə materialının möhkəmliyini artırmaqdan

Testin çətinlik dərəcəsi: asan

İstinad: <https://az.wikipedia.org/wiki/Takelaj> (18.12.2018) / Takelaj haqqında məlumat

35. Yükqaldırıcı kranlarda əsas parametr hansıdır?

- A) Kranın hərəkət sürəti
- B) Qolun qalxma bucağı
- C) Yükün qalxma sürəti
- D) Kranın dönmə bucağı
- E) Yükqaldırma qabiliyyəti

Testin çətinlik dərəcəsi: asan

İstinad: <https://az.wikipedia.org/wiki/Takelaj> (18.12.2018) / Takelaj haqqında məlumat

36. Konstruksiyaya görə yükqaldırıcı kranlar aşağıdakı hansı növlərə bölünür?

- A) Qollular, körpülülər, kabellilər
- B) Qollular, körpülülər, dörd ayaqlı
- C) Körpülülər, kabellilər, üç ayaqlı
- D) Qollular, kabellilər, təkərlilər
- E) Təkərlilər, dörd ayaqlı, relsli

Testin çətinlik dərəcəsi: asan

İstinad: <https://az.wikipedia.org/wiki/Takelaj> (18.12.2018) / Takelaj haqqında məlumat

37. Körpü ilə hərəkət edən, yük arabasına və ya tala asılan yük saxlayan qarmağı olan kranlar hansı növ yükqaldırıcı kranlara aiddir?

- A) Qülləli kranlar

- B) Körpülü kranlar
- C) Kabelli kranlar
- D) Tırtıllı kranlar
- E) Çarxlı kranlar

Testin çətinlik dərəcəsi: asan

İstinad: <https://az.wikipedia.org/wiki/Takelaj> (18.12.2018) / Takelaj haqqında məlumat

38. Köməkçi yükqaldırıcı maşınlara hansıları aiddir?

- A) Dəmir yollu, qülləli
- B) Tırtıllı, pnevmatik çarxlı
- C) Domkrat və bucurqadlar
- D) Stasionar dönən konsol
- E) Maçtalı, kanat intiqallı

Testin çətinlik dərəcəsi: orta

İstinad: <https://az.wikipedia.org/wiki/Takelaj> (18.12.2018) / Takelaj haqqında məlumat

39. Hansı növ yükqaldıran kranlarda, yüktutan vasitə qola və ya arabaya asılmışdır?

- A) Çarxlı kranlarda
- B) Kabelli kranlarda
- C) Tırtıllı kranlarda
- D) Qollu kranlarda
- E) Təkərli kranlarda

Testin çətinlik dərəcəsi: orta

İstinad: <https://az.wikipedia.org/wiki/Takelaj> (18.12.2018) / Takelaj haqqında məlumat

40. Trosların hansı ölçüsü əsas ölçü sayılır?

- A) Hörüklərin sayı
- B) Kanatın uzunluğu
- C) Materialı
- D) Kütləsi
- E) Diametri

Testin çətinlik dərəcəsi: asan

İstinad: Qaldırıcı kranlara təhlükəsiz xidmət edən takelajçılar üçün təlimat. TOИ P-66-18-93. Qüvvəyə minib: 01.01.1993-cü il tarixində

41. Qarmaq asqısı qurğusunun blokunun oxu hansı deformasiyaya uğrayır?

- A) Dartılma
- B) Sıxılma
- C) Əzilmə

D) Burulma

E) Əyilmə

Testin çətinlik dərəcəsi: asan

İstinad: Qaldırıcı kranlara təhlükəsiz xidmət edən takelajçılar üçün təlimat. TOИ P-66-18-93. Qüvvəyə minib: 01.01.1993-cü il tarixində

42. Yük ilmələri emal edərkən hansı üsullardan istifadə edilir?

A) Döymə

B) Ştamplama

C) Qaynaqlama

D) Kəsilmə

E) Mexaniki emal

Testin çətinlik dərəcəsi: asan

İstinad: Qaldırıcı kranlara təhlükəsiz xidmət edən takelajçılar üçün təlimat. TOИ P-66-18-93. Qüvvəyə minib: 01.01.1993-cü il tarixində

43. Qarmaqları emal edərkən hansı üsullardan istifadə edilir?

A) Kəsmə-yanma

B) Əritmə-tökmə

C) Döymə-ştamplama

D) Doğrama-qırma

E) Yanma-döymə

Testin çətinlik dərəcəsi: asan

İstinad: Qaldırıcı kranlara təhlükəsiz xidmət edən takelajçılar üçün təlimat. TOИ P-66-18-93. Qüvvəyə minib: 01.01.1993-cü il tarixində

44. Burazları seçərkən əsas hansı əmsal nəzərə alınmalıdır?

A) İstifadə əmsalı

B) Möhkəmlik əmsalı

C) Genişlənmə əmsalı

D) Bucaq əmsalı

E) Sürtünmə əmsalı

Testin çətinlik dərəcəsi: asan

İstinad: Qaldırıcı kranlara təhlükəsiz xidmət edən takelajçılar üçün təlimat. TOИ P-66-18-93. Qüvvəyə minib: 01.01.1993-cü il tarixində

45. Tarada qablaşdırılmış diyirlənən yükün çəkisi 400kq-dan az olan yüklər necə adlanır?

A) Ağır çəkili yüklər

B) Xüsusi təyinatlı yüklər

C) Ehtiyat yükləri

D) Qabaritsiz yüklər

E) Normal çəkili yüklər

Testin çətinlik dərəcəsi: orta

İstinad: Qaldırıcı kranlara təhlükəsiz xidmət edən takelajçılar üçün təlimat. TOИ P-66-18-93. Qüvvəyə minib: 01.01.1993-cü il tarixində

46. Diametri 300 mm-ə kimi borular ştabellərə hansı hündürlüyə kimi yığılmalıdır?

- A) 3 metrə kimi
- B) 4 metrə kimi
- C) 5 metrə kimi
- D) 6 metrə kimi
- E) 2 metrə kimi

Testin çətinlik dərəcəsi: mürəkkəb

İstinad: Qaldırıcı kranlara təhlükəsiz xidmət edən takelajçılar üçün təlimat. TOИ P-66-18-93. Qüvvəyə minib: 01.01.1993-cü il tarixində

47. Kanatlarda hansı içliklərdən istifadə olunur?

- A) Parça və rezin qatlarından
- B) Poladdan və daş kömür qətrandan
- C) Rezin və keçə qatlarından
- D) Keçə və kapron qatlarından
- E) Kapron və parça qatlarından

Testin çətinlik dərəcəsi: asan

İstinad: Qaldırıcı kranlara təhlükəsiz xidmət edən takelajçılar üçün təlimat. TOИ P-66-18-93. Qüvvəyə minib: 01.01.1993-cü il tarixində

48. Diametri 300 mm-dən böyük borular ştabellərə yığılanda hansı hündürlüyə kimi yığılmalıdır?

- A) 4 metrə kimi
- B) 6 metrə kimi
- C) 3 metrə kimi
- D) 2 metrə kimi
- E) 5 metrə kimi

Testin çətinlik dərəcəsi: mürəkkəb

İstinad: Qaldırıcı kranlara təhlükəsiz xidmət edən takelajçılar üçün təlimat. TOИ P-66-18-93. Qüvvəyə minib: 01.01.1993-cü il tarixində

49. Polad vərəqə və şvellerlər ştabellərə yığılanda hansı hündürlüyə kimi yığılmalıdır?

- A) 3 metrə kimi
- B) 2,5 metrə kimi
- C) 2 metrə kimi
- D) 1,5 metrə kimi
- E) 4 metrə kimi

Testin çətinlik dərəcəsi: mürəkkəb

İstinad: Qaldırıcı kranlara təhlükəsiz xidmət edən takelajçılar üçün təlimat. TOИ P-66-18-93. Qüvvəyə minib: 01.01.1993-cü il tarixində

50. Yükgötürmə həddi 0,5 - 12,5 tona qədər olan yüktütucu tərtibatlar hansılardır?

- A) Bir budaqlı ilmək
- B) Bir budaqlı zəncir
- C) İki budaqlı ilmək
- D) Üç budaqlı ilmək
- E) İki budaqlı zəncir

Testin çətinlik dərəcəsi: mürəkkəb

İstinad: V.İ.Puşin. Takelajçı üçün şəkilli dərslük. Moskva, 2002

51. Yükgötürmə həddi 0,5 - 16,0 tona qədər olan yüktütucu tərtibatlar hansılardır?

- A) Üç budaqlı zəncir
- B) Bir budaqlı zəncir
- C) İki budaqlı zəncir
- D) Bir budaqlı ilmək
- E) İki budaqlı ilmək

Testin çətinlik dərəcəsi: mürəkkəb

İstinad: V.İ.Puşin. Takelajçı üçün şəkilli dərslük. Moskva, 2002

52. Yükgötürmə həddi 1,0 - 25,0 tona qədər olan yüktütucu tərtibatlar hansılardır?

- A) İki budaqlı ilmək
- B) Bir budaqlı zəncir
- C) İki budaqlı zəncir
- D) Üç budaqlı zəncir
- E) Bir budaqlı ilmək

Testin çətinlik dərəcəsi: mürəkkəb

İstinad: V.İ.Puşin. Takelajçı üçün şəkilli dərslük. Moskva, 2002

53. Hansı yüktütucu tərtibatlara 6 aydan gec olmayaraq baxış keçirilməlidir?

- A) Xamutlara
- B) Stroplara
- C) Sırğalara
- D) Kanatlara
- E) Traverslərə

Testin çətinlik dərəcəsi: asan

İstinad: V.İ.Puşin. Takelajçı üçün şəkilli dərslik. Moskva, 2002

54. Bitki lifsiz polad birazların maksimal möhkəmliyi hansı düsturla hesablanır?

- A) $d^2 \times 18$
- B) $d^2 \times 16$
- C) $d^2 \times 14$
- D) $d^2 \times 12$
- E) $d^2 \times 10$

Testin çətinlik dərəcəsi: mürəkkəb

İstinad: S.Svensson. Takelajçının əl kitabı. Leningrad, 1987

55. Bitki çayırdəkli polad birazların maksimal möhkəmliyi hansı düsturla hesablanır?

- A) $d^2 \times 10$
- B) $d^2 \times 12$
- C) $d^2 \times 14$
- D) $d^2 \times 16$
- E) $d^2 \times 18$

Testin çətinlik dərəcəsi: mürəkkəb

İstinad: S.Svensson. Takelajçının əl kitabı. Leningrad, 1987

56. Taxta çəkcik şəklində olan polad burazlarla takelaj işləri aparmaq üçün alət necə adlanır?

- A) Trepalo
- B) Drayek
- C) Kiyanka
- D) Svayka
- E) Muşkel

Testin çətinlik dərəcəsi: mürəkkəb

İstinad: S.Svensson. Takelajçının əl kitabı. Leningrad, 1987

57. Takelaj işlərində iki müxtəlif diametrlı trosaların birləşdirilməsi üçün hansı düyükdən istifadə olunur?

- A) Sadə
- B) Düz
- C) Qarşılıqlı
- D) Yastı
- E) Mürəkkəb

Testin çətinlik dərəcəsi: orta

İstinad: <https://flot.com/publications/books/shelf/shipnavigation/118.htm?print=Y>
(18.12.2018) / Takelajçının alətləri

58. Takelaj işlərində iki eyni diametrlı bitki trosaların birləşdirilməsi üçün hansı düyükdən istifadə olunur?

- A) Yastı
- B) Sadə
- C) Qarşılıqlı
- D) Mürəkkəb
- E) Düz

Testin çətinlik dərəcəsi: orta

İstinad: <https://flot.com/publications/books/shelf/shipnavigation/118.htm?print=Y>
(18.12.2018) / Takelajçının alətləri

59. 30 tonluq yükü qaldırmaq üçün şəkildə göstərilən hansı yükütücü tərtibatdan istifadə etmək olar?

- A) 1
- B) 2
- C) 3
- D) 4
- E) 5



Testin çətinlik dərəcəsi: mürəkkəb

İstinad: V.İ.Puşin. Takelajçı üçün şəkilli dərslik. Moskva, 2002

60. 24 tonluq yükü qaldırmaq üçün şəkildə göstərilən hansı yükütücü tərtibatdan istifadə etmək olar?

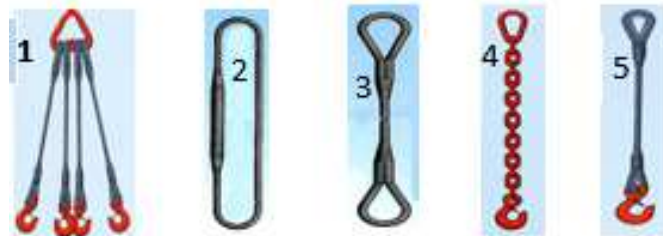
- A) 1
- B) 2
- C) 3
- D) 4
- E) 5



Testin çətinlik dərəcəsi: mürəkkəb

İstinad: V.İ.Puşin. Takelajçı üçün şəkilli dərslik. Moskva, 2002

61. 30 tonluq yükü qaldırmaq üçün şəkildə göstərilən hansı yükütücü tərtibatdan istifadə etmək olar?



- A) 1, 3, 5
- B) 2, 4, 5
- C) 1, 2, 3
- D) 2, 3, 4

E) 3, 4, 5

Testin çətinlik dərəcəsi: orta

İstinad: V.İ.Puşin. Takelajçı üçün şəkilli dərslik. Moskva, 2002

62. Bir tonluq olan yükütücü kəmər hansı rəngdə olmalıdır?

- A) Qırmızı
- B) Qəhvəyi
- C) Yaşıl
- D) Bənövşəyi
- E) Narıncı

Testin çətinlik dərəcəsi: asan

İstinad: ПД 24-C3K-01-01. Tekstil əsaslı yükqaldırıcı kəmərlər. Qüvvəyə minib: 09.11.2001-cü il tarixdə

63. Ştəbellərə yığılan yükün hündürlüyü 1,2 metrə qədər olduqda, onlardan dəmir yol relslərinə qədər hansı məsafə olmalıdır?

- A) 2 metrdən az olmalıdır
- B) 1,5 metrdən az olmalıdır
- C) 1 metrdən çox olmalıdır
- D) 1,5 metrdən çox olmalıdır
- E) 2 metrdən çox olmalıdır

Testin çətinlik dərəcəsi: orta

İstinad: ПД 24-C3K-01-01. Tekstil əsaslı yükqaldırıcı kəmərlər. Qüvvəyə minib: 09.11.2001-cü il tarixdə

64. İriölçülü avadanlıqların kran gəmilərinə və estakadayanı meydançalara yüklənilib-boşaldılmasına hansı halda icazə verilir?

- A) Küləyin gücü 3 bal, dənizin dalğalanması isə 1 bal olduqda
- B) Küləyin gücü 2 bal, dənizin dalğalanması isə 1 baldan çox olduqda
- C) Küləyin gücü 1 bal, dənizin dalğalanması isə 1 baldan çox olduqda
- D) Küləyin gücü 4 balda, dənizin dalğalanması isə 2 baldan çox olduqda
- E) Küləyin gücü 2 bal, dənizin dalğalanması isə 2 bal olduqda

Testin çətinlik dərəcəsi: mürəkkəb

İstinad: G.O.Mirheydərova. Neftqazçıxartma sənayesində təhlükəsizlik qaydaları. Bakı, 2013

65. Bütün qaldırıcı qurğuların (kran, bucarqad, tal və s.) texniki parametrləri qeyd olunan hansı sənəd olmalıdır?

- A) Kitabça
- B) İntentar
- C) Lisenziya
- D) Sertifikat
- E) Pasport

Testin çətinlik dərəcəsi: asan

İstinad: G.O.Mirheydərova. Neftqazçıxartma sənayesində təhlükəsizlik qaydaları. Bakı, 2013. Səh. 93

66. Bütün qaldırıcı qurğularda gözəçarpan yerdə quraşdırılmış lövhədə hansı məlumat olmalıdır?

- A) Yükgötürmə həddi
- B) Qurğunun markası
- C) İntentar nömrəsi
- D) Lisenziya nömrəsi
- E) Sürücünün adı, soyadı

Testin çətinlik dərəcəsi: orta

İstinad: G.O.Mirheydərova. Neftqazçıxartma sənayesində təhlükəsizlik qaydaları. Bakı, 2013. Səh. 93

67. Kran kabinəsi yük boşaldılan maydançadan aşağıda yerləşdikdə, konteynerləri boşaldarkən həmin meydançada fəhlə hansı məqsədlə olmalıdır?

- A) Yükün miqdarını hesablamaq üçün
- B) Krançıya signal vermək üçün
- C) Yükün çəkisini hesablamaq üçün
- D) Yükün keyfiyyətinə nəzarət etmək üçün
- E) Krançını əvəz etmək üçün

Testin çətinlik dərəcəsi: mürəkkəb

İstinad: G.O.Mirheydərova. Neftqazçıxartma sənayesində təhlükəsizlik qaydaları. Bakı, 2013. Səh. 94

68. Lak və boya materialları saxlanılan anbarlar havada zərərli buxarların qatılığının azaldılması üçün nə ilə təmin edilməlidir?

- A) İsidilmə qurğusu ilə
- B) Soyuducu qurğusu ilə
- C) Ventilyasiya qurğusu ilə
- D) Qapı və pəncərələrlə
- E) Kondisionerlə

Testin çətinlik dərəcəsi: asan

İstinad: G.O.Mirheydərova. Neftqazçıxartma sənayesində təhlükəsizlik qaydaları. Bakı, 2013. Səh. 99

69. Yükqaldırıcı maşınların istismarı, texniki vəziyyəti və yüklərin təhlükəsiz daşınmasına cavabdeh şəxsi kim təyin edir?

- A) Təchizat şöbəsinin rəisi
- B) Nəqliyyat şöbəsinin rəisi
- C) Baş mühasibin müavini
- D) Müəssisə rəhbərləri

E) Tikinti şöbəsinin rəisi

Testin çətinlik dərəcəsi: orta

İstinad: Magistral neft kəmərlərinin istismarında texniki təhlükəsizlik qaydaları haqqında Azərbaycan Respublikasının Yanacaq və Energetika Nazirliyinin №45 Əmri. Qüvvəyə minib: 18.12.2002-ci il tarixində

70. Kranların, qaldırıcı və başqa yükqaldırıcı maşınların texniki sazlığı istismara buraxılmazdan əvvəl və sonra hansı müddətdə müayinə olunmalıdır?

A) İldə 12 dəfə

B) İldə 4 dəfə

C) İldə 3 dəfə

D) İldə 2 dəfə

E) İldə 1 dəfə

Testin çətinlik dərəcəsi: mürəkkəb

İstinad: Magistral neft kəmərlərinin istismarında texniki təhlükəsizlik qaydaları haqqında Azərbaycan Respublikasının Yanacaq və Energetika Nazirliyinin №45 Əmri. Qüvvəyə minib: 18.12.2002-ci il tarixində

71. Yük qaldırıcı kranlar nə ilə təchiz olunmalıdır?

A) Səs və nəzarət cihazları ilə

B) Yan baxış pəncərələri ilə

C) Süşətmizləyən ilə

D) Qabaq baxış pəncərələri ilə

E) Arxa baxış pəncərələri ilə

Testin çətinlik dərəcəsi: orta

İstinad: Magistral neft kəmərlərinin istismarında texniki təhlükəsizlik qaydaları haqqında Azərbaycan Respublikasının Yanacaq və Energetika Nazirliyinin №45 Əmri. Qüvvəyə minib: 18.12.2002-ci il tarixində

72. Yükqaldırıcı kranın səs və nəzarət cihazları nə vaxt yoxlanılmalıdır?

A) Ayda ən azı iki dəfə

B) İşə başlamazdan əvvəl

C) Həftədə ən azı bir dəfə

D) İldə bir dəfə

E) İşə başlandıqdan sonra

Testin çətinlik dərəcəsi: orta

İstinad: Magistral neft kəmərlərinin istismarında texniki təhlükəsizlik qaydaları haqqında Azərbaycan Respublikasının Yanacaq və Energetika Nazirliyinin №45 Əmri. Qüvvəyə minib: 18.12.2002-ci il tarixində

73. Yükü qaldırdıqda, aşağıdakı şərtlərdən hansına riayət etmək vacib deyil?

A) Qarmaqdan asılı əşya kanatla və ya zəncirlə etibarlı bağlanmalıdır

B) Qaldırıcı mexanizmin qarmağı düz yükün üstündə yerləşməlidir

- C) Polad kanatları yük üzərinə düyünlü və burmalı qoyulmalıdır
- D) Qaldırıcı yükün kanatlarının altına xüsusi altlıq qoyulmalıdır
- E) Bucurqadın barabanına dolanan kanat düz sıralarla dolanmalıdır

Testin çətinlik dərəcəsi: orta

İstinad: Magistral neft kəmərlərinin istismarında texniki təhlükəsizlik qaydaları haqqında Azərbaycan Respublikasının Yanacaq və Energetika Nazirliyinin №45 Əmri. Qüvvəyə minib: 18.12.2002-ci il tarixində

74. Yükqaldıran kranların və digər yükqaldırıcı qurğuların saz vəziyyətdə saxlanmasına və bu texnika ilə işlərin təhlükəsiz görülməsinə hansı şəxslərin təyin olunması qadağandır?

- A) Müvafiq qaydada öyrədilmiş şəxslər
- B) Bilikləri yoxlanılmış şəxslər
- C) Müvafiq vəsiqəsi olan şəxslər
- D) Sağlamlığına görə yararsız olan şəxslər
- E) Əmrlə təyin olunmuş şəxslər

Testin çətinlik dərəcəsi: asan

İstinad: Magistral neft kəmərlərinin istismarında texniki təhlükəsizlik qaydaları haqqında Azərbaycan Respublikasının Yanacaq və Energetika Nazirliyinin №45 Əmri. Qüvvəyə minib: 18.12.2002-ci il tarixində

75. Yükqaldıran və borudöşəyən kranlarla hansı hallarda işləmək olar?

- A) Qaldırıcı mexanizm köhnələndə
- B) Metal-konstruksiyada çatlar olanda
- C) Polad burazlar köhnələndə
- D) Nəzarət cihazları nasaz olduqda
- E) Nəzarət cihazları saz olduqda

Testin çətinlik dərəcəsi: asan

İstinad: Magistral neft kəmərlərinin istismarında texniki təhlükəsizlik qaydaları haqqında Azərbaycan Respublikasının Yanacaq və Energetika Nazirliyinin №45 Əmri. Qüvvəyə minib: 18.12.2002-ci il tarixində

76. Yük qaldırıcı kranlarda statik sınaq birinci dəfə nə vaxt aparılır?

- A) Təzə quraşdırıldıqda
- B) Təmirdən əvvəl
- C) Aqreqləri dəyişdirildikdə
- D) Təmirdən sonra
- E) Cari təmir olunduqda

Testin çətinlik dərəcəsi: orta

İstinad: ПБ 10-382-00. Kranların quruluşu və təhlükəsiz istismarı qaydaları. Qüvvəyə minib: 17.08.2000-ci il tarixində

77. Statik sınaq zamanı qaldırıcı kranın qarmağı saxlaya bilən (pasportda göstərilən) yükdən neçə faiz artıq yüklənməlidir?

- A) 30%
- B) 25%
- C) 35%
- D) 10%
- E) 40%

Testin çətinlik dərəcəsi: mürəkkəb

İstinad: ПБ 10-382-00. Kranların quruluşu və təhlükəsiz istismarı qaydaları. Qüvvəyə minib: 17.08.2000-ci il tarixində

78. Yükqaldırıcı kranın dinamik sınağı zamanı qarmağı saxlaya bilən (pasportda göstərilən) yükdən neçə dəfə artıq yüklənməlidir?

- A) 4 dəfə
- B) 3 dəfə
- C) 2 dəfə
- D) 5 dəfə
- E) 10 dəfə

Testin çətinlik dərəcəsi: orta

İstinad: ПБ 10-382-00. Kranların quruluşu və təhlükəsiz istismarı qaydaları. Qüvvəyə minib: 17.08.2000-ci il tarixində

79. Dinamik sınaq zamanı qaldırıcı kranın qarmağı saxlaya bilən (pasportda göstərilən) yükdən neçə faiz artıq yüklənməlidir?

- A) 30%
- B) 20%
- C) 25%
- D) 10%
- E) 50%

Testin çətinlik dərəcəsi: mürəkkəb

İstinad: ПБ 10-382-00. Kranların quruluşu və təhlükəsiz istismarı qaydaları. Qüvvəyə minib: 17.08.2000-ci il tarixində

80. Külək axınlarının sürətini ölçən və kranın işləməsində təhlükə yaradan sürətə çatanda avtomatik səs signalı qoşan cihaz necə adlanır?

- A) Spidometr
- B) Areometr
- C) Ampermetr
- D) Anerorumbometr
- E) Anemometr

Testin çətinlik dərəcəsi: orta

İstinad: ПБ 10-382-00. Kranların quruluşu və təhlükəsiz istismarı qaydaları. Qüvvəyə minib: 17.08.2000-ci il tarixində

81. Yüktutucunun növündən aslı olaraq, yükqaldıran kranlar aşağıdakı hansı növlərə bölünür?

- A) Qarmaqlı, qreyferli, maqnitli
- B) Qollular, körpülü, dörd ayağlı
- C) Kabellilər, qollu, təkərli
- D) Qollular, körpülü, kabelli
- E) Təkərli, dörd ayağlı, relsli

Testin çətinlik dərəcəsi: asan

İstinad: ПБ 10-382-00. Kranların quruluşu və təhlükəsiz istismarı qaydaları. Qüvvəyə minib: 17.08.2000-ci il tarixində

82. Kranın yükünün 30 dəqiqə ərzində 100-200 mm hündürlükdə saxlanması prosesi necə adlanır?

- A) Dinamik sınaq
- B) Statik sınaq
- C) Növbəti sınaq
- D) Gündəlik sınaq
- E) Növbədənənar sınaq

Testin çətinlik dərəcəsi: orta

İstinad: ПБ 10-382-00. Kranların quruluşu və təhlükəsiz istismarı qaydaları. Qüvvəyə minib: 17.08.2000-ci il tarixində

83. Pasportda nəzərdə tutulmuş bütün əməliyyatların 5-8 dəfə yerinə yetirilməsi və kran mexanizmlərinin işləməsini yoxlamaq üçün sınaq necə adlanır?

- A) Növbədənənar sınaq
- B) Gündəlik sınaq
- C) Dinamik sınaq
- D) Növbəti sınaq
- E) Statik sınaq

Testin çətinlik dərəcəsi: asan

İstinad: ПБ 10-382-00. Kranların quruluşu və təhlükəsiz istismarı qaydaları. Qüvvəyə minib: 17.08.2000-ci il tarixində

84. İnsan əməyi və mürəkkəb texnikanın iştirakını tələb etməyən, nisbətən yüngül yüklərin yerdəyişmə üsulu necə adlanır?

- A) Mürəkkəb üsul
- B) Müasir üsul
- C) Orta üsul
- D) Sadə üsul
- E) Texniki üsul

Testin çətinlik dərəcəsi: asan

İstinad: ПБ 10-382-00. Kranların quruluşu və təhlükəsiz istismarı qaydaları.
Qüvvəyə minib: 17.08.2000-ci il tarixində

85. Xüsusi texnikanın və bir çox mütəxəssislərin işinin təşkil edilməsini tələb edən, 20 tona qədər yükün yerdəyişmə üsulu necə adlanır?

- A) Sadə üsul
- B) Mürəkkəb üsul
- C) Müasir üsul
- D) Texniki üsul
- E) Orta üsul

Testin çətinlik dərəcəsi: asan

İstinad: ПБ 10-382-00. Kranların quruluşu və təhlükəsiz istismarı qaydaları.
Qüvvəyə minib: 17.08.2000-ci il tarixində

86. Kranlara və yükqaldırıcılara ağırlığı 20 tondan yuxarı olan yükün yerdəyişmə üsulu necə adlanır?

- A) Mürəkkəb üsul
- B) Sadə üsul
- C) Müasir üsul
- D) Orta üsul
- E) Texniki üsul

Testin çətinlik dərəcəsi: asan

İstinad: ПБ 10-382-00. Kranların quruluşu və təhlükəsiz istismarı qaydaları.
Qüvvəyə minib: 17.08.2000-ci il tarixində

87. Hündürlüyü 10 metrə qədər qaldırılan yükə hansı məsafədən yaxınlaşmaq olar?

- A) 3 metrə qədər
- B) 4 metrə qədər
- C) 2 metrə qədər
- D) 1 metrə qədər
- E) 3.5 metrə qədər

Testin çətinlik dərəcəsi: orta

İstinad: V.İ.Puşin. Takelajçı üçün şəkilli dərslik. Moskva, 2002

88. Şəkildə göstərilən işarə nəyi bildirir?



- A) Günəşdən qorunmağı
- B) Nəmdən qorunmağı

- C) Ağırılıq mərkəzini
- D) Yığılma istiqamətini
- E) Malın açılma yerini

Testin çətinlik dərəcəsi: asan

İstinad: V.İ.Puşin. Takelajçı üçün şəkilli dərslik. Moskva, 2002

89. Şəkildə göstərilən işarə nəyi bildirir?

- A) Yük günəş şüasından qorunmalıdır
- B) Yük yağışdan qorunmalıdır
- C) Yükü sıxmaq qadağandır
- D) Yükü ştabelləmək qadağandır
- E) Yükü qaldırmaq qadağandır

Testin çətinlik dərəcəsi: orta

İstinad: V.İ.Puşin. Takelajçı üçün şəkilli dərslik. Moskva, 2002

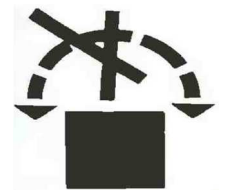


90. Şəkildə göstərilən işarə nəyi bildirir?

- A) Yükü qaldırmaq qadağandır
- B) Yükü ştabelləmək qadağandır
- C) Yükü sıxmaq qadağandır
- D) Yük günəşdən qorunmalıdır
- E) Yükü diyirlətmək qadağandır

Testin çətinlik dərəcəsi: orta

İstinad: V.İ.Puşin. Takelajçı üçün şəkilli dərslik. Moskva, 2002



91. Şəkildə göstərilən işarə nəyi bildirir?

- A) Yükü sıxmaq qadağandır
- B) Yükü ştabelləmək qadağandır
- C) Yükü qaldırmaq qadağandır
- D) Yükü diyirlətmək qadağandır
- E) Yük günəşdən qorunmalıdır

Testin çətinlik dərəcəsi: asan

İstinad: V.İ.Puşin. Takelajçı üçün şəkilli dərslik. Moskva, 2002



92. Şəkildə göstərilən işarə nəyi bildirir?

- A) Yükün ağırılıq mərkəzini
- B) Nəql zamanı açmaq qadağandır
- C) Yükün yığılma istiqamətini
- D) Taranın açılma istiqamətini
- E) Yükün yığılma hündürlüyünü

Testin çətinlik dərəcəsi: mürəkkəb

İstinad: V.İ.Puşin. Takelajçı üçün şəkilli dərslik. Moskva, 2002



93. Takelajçı yükü qoşmazdan əvvəl nəyi bilməlidir?

- A) Qaldırılan yükün ağırlıq mərkəzini, yükün keyfiyyətini
- B) Qaldırılan yükün keyfiyyətini, yükün çəkisini
- C) Qaldırılan yükün çəkisini, yükün ağırlıq mərkəzini
- D) Qaldırılan yükün qoşma qaydalarını, istifadə qaydasını
- E) Qaldırılan yükün istifadə qaydasını, yükün keyfiyyətini

Testin çətinlik dərəcəsi: mürəkkəb

İstinad: Yüklər və təsirlər. Layihələndirmə normaları haqqında Azərbaycan Respublikası Dövlət Şəhərsalma və Arxitektura Komitəsinin Kollegiyasının 02 №-li qərarı. Qüvvəyə minib: 15.04.2015-ci il tarixində

94. Zavod şəraitində hazırlanan konstruksiyaların və avadanlıqların dəqiq çəkisini necə öyrənmək olar?

- A) Zavod pasportundan, hesablama nəticəsində
- B) Hesablama nəticəsindən, işçi cizgisindən
- C) Ölçmə nəticəsindən, zavod pasportundan
- D) İşçi cizgisindən, zavod pasportundan
- E) Hesablama nəticəsindən, ölçmə nəticəsindən

Testin çətinlik dərəcəsi: mürəkkəb

İstinad: Yüklər və təsirlər. Layihələndirmə normaları haqqında Azərbaycan Respublikası Dövlət Şəhərsalma və Arxitektura Komitəsinin Kollegiyasının 02 №-li qərarı. Qüvvəyə minib: 15.04.2015-ci il tarixində

95. Yenidən quraşdırılmış, təkmilləşdirilmiş (modernləşdirilmiş), əsaslı təmir olunmuş avadanlıqların istismara buraxılmasına kim icazə verir?

- A) Təmir şöbəsinin rəisi
- B) Müəssisənin baş mühasibi
- C) Tikinti şöbəsinin rəisi
- D) Təchizat şöbəsinin rəisi
- E) Müəssisənin rəhbəri

Testin çətinlik dərəcəsi: asan

İstinad: Magistral neft kəmərlərinin istismarında texniki təhlükəsizlik qaydaları haqqında Azərbaycan Respublikasının Yanacaq və Energetika Nazirliyinin №45 Əmri. Qüvvəyə minib: 18.12.2002-ci il tarixində

96. Hansı yükütücü mexanizmlərlə və tərtibatlarla iş aparmaq qadağandır?

- A) Yükötürmə qabiliyyəti bilinməyən, nasaz yükütücü ilə
- B) Sınaqdan keçməyən tərtibatlarla, birkası olan tərtibatlarla
- C) Damğası olan tərtibatlarla, sınaqdan keçən tərtibatlarla
- D) Sınaqdan keçən tərtibatlarla, nasaz yükütucularla
- E) Nasaz yükütucularla, pasportu olan mexanizmlərlə

Testin çətinlik dərəcəsi: asan

İstinad: Magistral neft kəmərlərinin istismarında texniki təhlükəsizlik qaydaları haqqında Azərbaycan Respublikasının Yanacaq və Energetika Nazirliyinin №45 Əmri. Qüvvəyə minib: 18.12.2002-ci il tarixində

97. Materialın sıxlığı - (m), yükün həcmi - (V) olarsa, sadə yükün kütləsini - (Q) aşağıdakı hansı düsturla müəyyən etmək olar?

- A) $Q=V / m$
- B) $Q=m \times V$
- C) $Q=V - m$
- D) $Q=m / V$
- E) $Q= m + V$

Testin çətinlik dərəcəsi: mürəkkəb

İstinad: <https://eam.su/klassifikaciya-gruzov-i-sposoby-stropovki.html>
(18.12.2018) / Yüklərin ilməkləmə qaydası

98. Yükün bütün istiqamətlərdə balanslaşdırılmış olduğu nöqtə necə adlanır?

- A) Yükün pik nöqtəsi
- B) Yükün maksimum nöqtəsi
- C) Yükün ağırlıq mərkəzi
- D) Yükün minimum nöqtəsi
- E) Yükün nominal nöqtəsi

Testin çətinlik dərəcəsi: asan

İstinad: <https://eam.su/klassifikaciya-gruzov-i-sposoby-stropovki.html>
(18.12.2018) / Yüklərin ilməkləmə qaydası

99. Materialın sıxlığı - (m), yükün həcmi - (V), yükün bütün hissələrinin həcmnin cəmi - (ΣV_i) olarsa, mürəkkəb yükün kütləsini - (Q) aşağıdakı hansı düsturla müəyyən etmək olar?

- A) $Q=m + \Sigma V_i$
- B) $Q= \Sigma V_i / m$
- C) $Q=m - \Sigma V_i$
- D) $Q=m \times \Sigma V_i$
- E) $Q= \Sigma v_i - m$

Testin çətinlik dərəcəsi: mürəkkəb

İstinad: <https://eam.su/klassifikaciya-gruzov-i-sposoby-stropovki.html>
(18.12.2018) / Yüklərin ilməkləmə qaydası

100. Dördbucaq şəkilli polad vərəqənin ağırlıq mərkəzi harda yerləşir?

- A) Meridianların kəsişmə nöqtəsində
- B) Tənbülənlərin kəsişmə nöqtəsində
- C) Diametrlərin kəsişmə nöqtəsində
- D) Radiusların kəsişmə nöqtəsində
- E) Diaqonalların kəsişmə nöqtəsində

Testin çətinlik dərəcəsi: asan

İstinad: <https://sites.google.com/site/tehmehprimizt/lekcii/teoreticeskaa-mekanika/statika/centr-tazesti> (18.12.2018) / Yüklərin ağırlıq mərkəzinin təyin olunması

101. Üçbucaq şəkilli polad vərəqənin ağırlıq mərkəzi harda yerləşir?

- A) Meridianların kəsişmə nöqtəsində
- B) Diametrlərin kəsişmə nöqtəsində
- C) Diaqonalların kəsişmə nöqtəsində
- D) Tənbönlərin kəsişmə nöqtəsində
- E) Radiusların kəsişmə nöqtəsində

Testin çətinlik dərəcəsi: orta

İstinad: <https://sites.google.com/site/tehmehprimizt/lekcii/teoreticeskaa-mekanika/statika/centr-tazesti> (18.12.2018) / Yüklərin ağırlıq mərkəzinin təyin olunması

102. Dairə şəkilli polad vərəqənin ağırlıq mərkəzi harda yerləşir?

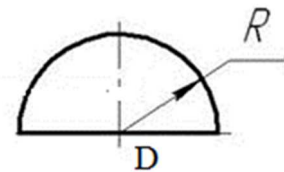
- A) Meridianların kəsişmə nöqtəsində
- B) Diametrlərin kəsişmə nöqtəsində
- C) Tənbönlərin kəsişmə nöqtəsində
- D) Diaqonalların kəsişmə nöqtəsində
- E) Radiusların kəsişmə nöqtəsində

Testin çətinlik dərəcəsi: orta

İstinad: <https://sites.google.com/site/tehmehprimizt/lekcii/teoreticeskaa-mekanika/statika/centr-tazesti> (18.12.2018) / Yüklərin ağırlıq mərkəzinin təyin olunması

103. Yarım dairə şəkilli polad vərəqənin ağırlıq mərkəzi hansı koordinatlarda yerləşir?

- A) $x_m = D/4$; $y_m = 4R/6\pi$
- B) $x_m = D$; $y_m = R$
- C) $x_m = D/2$; $y_m = 4R/3\pi$
- D) $x_m = D/2$; $y_m = 4R/6\pi$
- E) $x_m = D/4$; $y_m = 4R$



Testin çətinlik dərəcəsi: mürəkkəb

İstinad: <https://sites.google.com/site/tehmehprimizt/lekcii/teoreticeskaa-mekanika/statika/centr-tazesti> (18.12.2018) / Yüklərin ağırlıq mərkəzinin təyin olunması

104. Yüklərin üstünə vurulan işarə nəyi bildirir?

- A) Günəş şüasından qorunmalıdır
- B) Yüklə qarmaqla qaldırılmalıdır
- C) Yüklə sıxaraq qaldırmaq olmaz
- D) Qarmaqla qaldırmaq qadağandır
- E) Yüklə sıxaraq qaldırmaq yeri

Testin çətinlik dərəcəsi: asan

İstinad: V.İ.Puşin. Takelajçı üçün şəkilli dərslük. Moskva, 2002



105. Yüklə üstünə vurulan işarə nəyi bildirir?

- A) Qarmaqla qaldırmaq qadağandır
- B) Yüklə sıxaraq qaldırmaq olmaz
- C) Yüklə sıxaraq qaldırmaq yeri
- D) Yüklə qarmaqla qaldırılmalıdır
- E) Günəş şüasından qorunmalıdır

Testin çətinlik dərəcəsi: orta

İstinad: V.İ.Puşin. Takelajçı üçün şəkilli dərslük. Moskva, 2002



106. Yüklə üstünə vurulan işarə nəyi bildirir?

- A) Radiasiya xüsusiyyətlərinə təsir edir
- B) Yüklə sıxaraq qaldırmaq yeri
- C) Qarmaqla qaldırmaq qadağandır
- D) Yüklə qarmaqla qaldırılmalıdır
- E) Yüklə sıxaraq qaldırmaq olmaz

Testin çətinlik dərəcəsi: orta

İstinad: V.İ.Puşin. Takelajçı üçün şəkilli dərslük. Moskva, 2002



107. Yüklə üstünə vurulan işarə nəyi bildirir?

- A) Günəş şüasından qorunmalıdır
- B) Yüklə sıxaraq qaldırmaq yeri
- C) Yüklə qarmaqla qaldırılmalıdır
- D) Yüklə sıxaraq qaldırmaq olmaz
- E) Qarmaqla qaldırmaq qadağandır

Testin çətinlik dərəcəsi: asan

İstinad: V.İ.Puşin. Takelajçı üçün şəkilli dərslük. Moskva, 2002



108. Yüklə üstünə vurulan işarə nəyi bildirir?

- A) Yüklə sıxaraq qaldırmaq olmaz
- B) Yüklə qarmaqla qaldırılmalıdır
- C) Yüklə radiasiyadan qorunmalıdır
- D) Qarmaqla qaldırmaq qadağandır
- E) Günəş şüasından qorunmalıdır

Testin çətinlik dərəcəsi: orta

İstinad: V.İ.Puşin. Takelajçı üçün şəkilli dərslük. Moskva, 2002



109. Ykn stn vurulan isar nyi bildirir?

- A) Asan alıan mayeni
- B) Zhrli maddləri
- C) Yoluxucu maddləri
- D) Partlayıcı maddni
- E) Oksidldirici maddni

Testin tinlik drcsi: orta

İstinad: V.İ.Puin. Takelajı n killi drslk. Moskva, 2002



110. Ykn stn vurulan isar nyi bildirir?

- A) Oksidldirici maddni
- B) Zhrli maddləri
- C) Yoluxucu maddləri
- D) Partlayıcı maddni
- E) Asan alıan mayeni

Testin tinlik drcsi: orta

İstinad: V.İ.Puin. Takelajı n killi drslk. Moskva, 2002



111. Ykn stn vurulan isar nyi bildirir?

- A) Oksidldirici maddni
- B) Partlayıcı maddni
- C) Zhrli maddləri
- D) Asan alıan mayeni
- E) Yoluxucu maddləri

Testin tinlik drcsi: orta

İstinad: V.İ.Puin. Takelajı n killi drslk. Moskva, 2002



112. Ykn stn vurulan isar nyi bildirir?

- A) Oksidldirici maddni
- B) Zhrli maddləri
- C) Asan alıan mayeni
- D) Partlayıcı maddni
- E) Yoluxucu maddləri

Testin tinlik drcsi: asan

İstinad: V.İ.Puin. Takelajı n killi drslk. Moskva, 2002



113. Ykn stn vurulan isar nyi bildirir?

- A) Partlayıcı maddəni
- B) Asan alışan mayeni
- C) Yoluxucu maddələri
- D) Oksidləşdirici maddəni
- E) Zəhərli maddələri



Testin çətinlik dərəcəsi: orta

İstinad: V.İ.Puşin. Takelajçı üçün şəkilli dərslik. Moskva, 2002

114. Yükün üstünə vurulan işarə nəyi bildirir?

- A) Boruları qaldırmaq qadağandır
- B) Yükün qaldırılması qadağandır
- C) Qarmaqla qaldırmaq qadağandır
- D) Çəpinə yük qaldırmaq qadağandır
- E) Yük qarmaqla qaldırılmalıdır

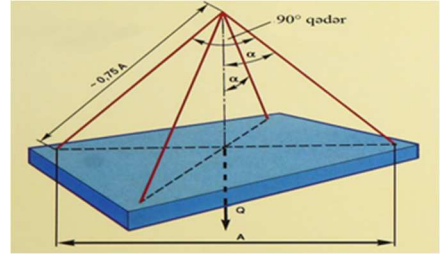


Testin çətinlik dərəcəsi: asan

İstinad: V.İ.Puşin. Takelajçı üçün şəkilli dərslik. Moskva, 2002

115. Yükün ağırlığı (Q), qoşulmuş qarmağların sayı (n) olarsa, hər bir qoşulmuş qola düşən ağırlıq (S), hansı düsturla hesablanır?

- A) $S = Q + (n \times \cos \alpha)$
- B) $S = Q \times (n + \cos \alpha)$
- C) $S = Q - (n \times \cos \alpha)$
- D) $S = Q \times (n - \cos \alpha)$
- E) $S = Q / (n \times \cos \alpha)$



Testin çətinlik dərəcəsi: mürəkkəb

İstinad: V.İ.Puşin. Takelajçı üçün şəkilli dərslik. Moskva, 2002

116. Fermaların uzunluğu 18 metrə qədər olduğu halda onlar neçə yerdə ilməklənir?

- A) 2
- B) 1
- C) 5
- D) 6
- E) 3

Testin çətinlik dərəcəsi: mürəkkəb

İstinad: V.İ.Puşin. Takelajçı üçün şəkilli dərslik. Moskva, 2002

117. Fermaların uzunluğu 18 metrdən çox olduğu halda onlar neçə yerdə ilməklənir?

- A) Beş
- B) Dörd
- C) Üç
- D) İki

E) Bir

Testin çətinlik dərəcəsi: orta

İstinad: V.İ.Puşin. Takelajçı üçün şəkilli dərslik. Moskva, 2002

118. Ştbelləmə üsulu ilə hündürlüyü 2,5 metrə qədər yığılan materiallar hansılardır?

- A) Polad burazlar və trosalar
- B) Mis kabel və məftillər
- C) Beton döşəmələr
- D) d300 mm-dən böyük borular
- E) d300 mm-ə kimi borular

Testin çətinlik dərəcəsi: orta

İstinad: V.İ.Puşin. Takelajçı üçün şəkilli dərslik. Moskva, 2002

119. Ştbelləmə üsulu ilə hündürlüyü 1,5 metrə qədər yığılan materiallar hansılardır?

- A) d300 mm-dən böyük borular
- B) Beton döşəmələr, svaylar
- C) Fundament bloklar, svaylar
- D) Polad vərəqə və şvellerlər
- E) d300 mm-ə kimi borular

Testin çətinlik dərəcəsi: orta

İstinad: V.İ.Puşin. Takelajçı üçün şəkilli dərslik. Moskva, 2002

120. Ştbelləmə üsulu ilə hündürlüyü 2 metrə qədər yığılan materiallar hansılardır?

- A) Beton döşəmələr, riqellər
- B) d300 mm-ə kimi borular
- C) d300 mm-dən böyük borular
- D) Fundament bloklar, svaylar
- E) Svay, riqel və kalonlar

Testin çətinlik dərəcəsi: orta

İstinad: V.İ.Puşin. Takelajçı üçün şəkilli dərslik. Moskva, 2002

121. Ştbelləmə üsulu ilə hündürlüyü üst-üstə 2 cərgədən artıq hansı materialların yığılması qadağandır?

- A) Fundament blokları
- B) Mis kabel və mis məftillər
- C) Polad burazlar və trosalar
- D) Barabanda gərginlik kabeli
- E) Konteynerə yığılmış kərpiclər

Testin çətinlik dərəcəsi: mürəkkəb

İstinad: V.İ.Puşin. Takelajçı üçün şəkilli dərslik. Moskva, 2002

122. Hansı yük qaldırıcı tərtibatlar gündəlik işləndikdə, on gündə bir dəfə baxış keçirilməlidir?

- A) Qreyferlər
- B) İlməklər
- C) Traverslər
- D) Ekssentriklər
- E) Kəlbətinlər

Testin çətinlik dərəcəsi: asan

İstinad: V.İ.Puşin. Takelajçı üçün şəkilli dərslik. Moskva, 2002

123. Nadir hallarda işlədilən geydirilib-çıxarıla bilən yüktütucu tərtibatlar hansı halda yoxlanılır?

- A) Hər dəfə işi bitirəndən sonra
- B) Yüktütucu tərtibatlarda çatlar olanda
- C) Hər dəfə işə başlamazdan əvvəl
- D) Yüktütucu tərtibatlarda əyilmə olanda
- E) Yüku hündürlüyə qaldırıqda

Testin çətinlik dərəcəsi: asan

İstinad: V.İ.Puşin. Takelajçı üçün şəkilli dərslik. Moskva, 2002

124. Yükgötürmə həddi 0,5 - 20,0 tona qədər olan yüktütucu tərtibatlar hansılardır?

- A) Bir budaqlı ilmək, bir budaqlı zəncir
- B) Bir budaqlı zəncir, iki budaqlı zəncir
- C) İki budaqlı zəncir, bir budaqlı ilmək
- D) Bir budaqlı ilmək, iki budaqlı ilmək
- E) İki budaqlı ilmək, bir budaqlı zəncir

Testin çətinlik dərəcəsi: mürəkkəb

İstinad: V.İ.Puşin. Takelajçı üçün şəkilli dərslik. Moskva, 2002

125. Yükgötürmə həddi 0,63 - 20,0 tona qədər olan yüktütucu tərtibatlar hansılardır?

- A) İki budaqlı zəncir
- B) Bir budaqlı zəncir
- C) Üç budaqlı zəncir
- D) Bir budaqlı ilmək
- E) Üç budaqlı ilmək

Testin çətinlik dərəcəsi: mürəkkəb

İstinad: V.İ.Puşin. Takelajçı üçün şəkilli dərslik. Moskva, 2002

126. Yükgötürmə həddi 0,63 - 32,0 tona qədər olan yüktütucu tərtibatlar hansılardır?

- A) Dörd budaqlı ilmək
- B) Üç budaqlı zəncir
- C) Üç budaqlı ilmək
- D) İki budaqlı ilmək
- E) Bir budaqlı ilmək

Testin çətinlik dərəcəsi: mürəkkəb

İstinad: V.İ.Puşin. Takelajçı üçün şəkilli dərslik. Moskva, 2002

127. İşçilərə ilkin təlimatı kim keçir?

- A) Əməyin mühafizə şöbəsinin mühəndisi
- B) Əməyin mühafizəsi şöbəsinin rəisi
- C) Sahə və ya işin rəhbəri
- D) Həmkarlar ittifaqı komitəsinin sədri
- E) Müəssisənin direktoru

Testin çətinlik dərəcəsi: asan

İstinad: Y.H.Bünyətov. Əməyin mühafizəsi (məlumat kitabı). Bakı, 2003. Səh. 127

128. İşçilərə ilkin təlimat harda keçirilir?

- A) Baş mühəndisin yanında
- B) İşçinin göndərildiyi sahədə
- C) Həmkarlar ittifaqı komitəsində
- D) Əməyin mühafizəsi otağında
- E) Əməyin mühafizəsi şöbəsinin rəisinin yanında

Testin çətinlik dərəcəsi: asan

İstinad: Y.H.Bünyətov. Əməyin mühafizəsi (məlumat kitabı). Bakı, 2003. Səh. 127

129. Fəhlələri sərbəst işə buraxmazdan əvvəl onlara təlimatın hansı növü keçirilməlidir?

- A) Giriş
- B) Birdəfəlik

- C) Dövri
- D) Vaxtaşırı
- E) İlkin

Testin çətinlik dərəcəsi: asan

İstinad: Y.Əhmədov, T.Rəhimov.İşçilərin sağlamlığı və əməyin təhlükəsizliyi. I cild. Bakı, 2010. Səh. 456

130. Fəhlələrlə iş yerində ilkin təlimat hansı hallarda aparılır?

- A) İşçinin gördüyü işə aid olmayan bir işi yerinə yetirməzdən əvvəl və istehsalat şəraiti dəyişəndə
- B) Sərbəst işə buraxılmazdan əvvəl və ilkin işə qəbul olunanda
- C) Sərbəst işə buraxılmazdan əvvəl və istehsalat şəraiti dəyişəndə
- D) Sərbəst işə buraxılmazdan əvvəl və texnologiyada dəyişiklik olunduqda
- E) İşçinin gördüyü işə aid olmayan bir işi yerinə yetirməzdən əvvəl və texnologiyada dəyişiklik olunduqda

Testin çətinlik dərəcəsi: asan

İstinad: Y.Əhmədov, T.Rəhimov.İşçilərin sağlamlığı və əməyin təhlükəsizliyi. I- cild. Bakı, 2010. Səh. 456

131. Əl ilə yüklərin daşınması məsafəsi neçə metrdən artıq olduqda yüklərin daşınmasına icazə verilmir?

- A) 80 metrdən artıq olduqda
- B) 40 metrdən artıq olduqda
- C) 60 metrdən artıq olduqda
- D) 100 metrdən artıq olduqda
- E) 120 metrdən artıq olduqda

Testin çətinlik dərəcəsi: çətin

İstinad: Neftqazçıxartma sənayesində təhlükəsizlik qaydaları. Bakı, 2005. Səh. 526

132. Nə zaman yüklərin yüksəkliyə qaldırılmasına icazə verilir?

- A) Yüklə qaldırılan meydança pilləkanla təchiz olunduqda və meydançanın hündürlüyü 3 m-dən çox olmadıqda
- B) Yüklə qaldırılan meydança pilləkanla təchiz olunmadıqda və meydançanın hündürlüyü 3 m-dən çox olmadıqda
- C) Yüklə qaldırılan meydança pilləkanla təchiz olunduqda və meydançanın hündürlüyü 4 m-dən çox olmadıqda
- D) Yüklə qaldırılan meydança pilləkanla təchiz olunmadıqda və meydançanın hündürlüyü 4 m-dən çox olmadıqda
- E) Yüklə qaldırılan meydança pilləkanla təchiz olunduqda və meydançanın hündürlüyü 5 m-dən çox olmadıqda

Testin çətinlik dərəcəsi: çətin

İstinad: Neftqazçıxartma sənayesində təhlükəsizlik qaydaları. Bakı, 2005. Səh. 526

133. İstehsalat binalarında otaqların tavanı döşəmədən minimum nə qədər məsafədə olmalıdır?

- A) 2 metrden az olmamalıdır
- B) 3 metrden az olmamalıdır
- C) 4 metrden az olmamalıdır
- D) 1 metrden az olmamalıdır
- E) 2,5 metrden az olmamalıdır

Testin çətinlik dərəcəsi: orta

İstinad: Y.H.Bünyətov. Əməyin mühafizəsi. Məlumat kitabı. Bakı, 2003. Səh. 127

134. Tozlu işləri yerinə yetirən fəhlə hansı fərdi mühafizə vasitəsindən istifadə etməlidir?

- A) Çəkmədən
- B) Qulaqcıqdan
- C) Resperatordan
- D) Filtrlə əleyhqazdan

E) Şlanqlı əleyhqazdan

Testin çətinlik dərəcəsi: asan

İstinad: Neft emalı və neft-kimya sənayesində təhlükəsizlik qaydaları. Bakı, 2012. Səh. 151

135. Elektrik cərəyanının təsirindən qoruyan mühafizə vasitəsini göstərin?

A) Dezaktivasiya vasitələri

B) Səsboğan

C) İzoləedici örtüklər və qurğular

D) Hermetikləşdirici qurğu

E) İşıq filtrləri

Testin çətinlik dərəcəsi: asan

İstinad: Y.Əhmədov, T.Rəhimov. İşçilərin sağlamlığı və əməyin təhlükəsizliyi. II cild. Bakı, 2011. Səh. 500

136. Yer səthindən 2 metrədən yüksəklikdə iş aparılan zaman əsasən nədən istifadə olunmalıdır?

A) Rezin əlcəkdən

B) Xüsusi çəkmələrdən

C) Qulaqcıqdan

D) Eynəkdən

E) Qoruyucu kəmərdən

Testin çətinlik dərəcəsi: asan

İstinad: Y.Əhmədov, T.Rəhimov. İşçilərin sağlamlığı və əməyin təhlükəsizliyi. II cild. Bakı, 2011. Səh. 500

137. Nəfəs yollarının mühafizəsi üçün hansı mühafizə vasitələrindən istifadə olunur?

- A) Şlanqlı əleyhqazlardan
- B) Süzgəcli əleyhqazlar və qulaqcıqlardan
- C) Süzgəcli, oksigenli əleyhqazlar və dəbilqədən
- D) Resperatorlar, əleyhqazlar və eynəkdən
- E) Resperator və əleyhqazlardan

Testin çətinlik dərəcəsi: orta

İstinad: Müəssisələrdə texniki təhlükəsizlik və əməyin mühafizəsinin təşkilinə dair mühüm aspektlər. Bakı, 2008

138. Günvurma nə vaxt baş verir?

- A) Günəşli havada gün şüalarının altında olduqda
- B) Yayda kölgəlikdə çox durduqda
- C) İsti otaqda çox qaldıqda
- D) İsti yay fəslində günəşli havada gün şüalarının təsiri altında çox durduqda
- E) Qışda günəşli havada gün şüalarının təsiri altında çox durduqda

Testin çətinlik dərəcəsi: asan

İstinad: Azərbaycan Respublikasının Ətraf mühitin mühafizəsi haqqında qanunu Bakı 1999

139. Qapalı sınıqlar zamanı ilk tibbi yardım kimi nə etmək lazımdır?

- A) Sadəcə həkimi gözləmək
- B) Ağrıkəsici dərman vermək və tibb müəssisəsinə çatdırmaq
- C) Şına qoyub tərپənməz vəziyyətdə saxlamaq, tibb müəssisəsinə çatdırmaq
- D) Təmiz havaya çıxarmaq bintlə sarımaq
- E) Deformasiya uğramış nahiyəni düzləndirib bintlə sarımaq

Testin çətinlik dərəcəsi: çətin

İstinad: Tibb bacısının məlumat kitabı Bakı 2008

140. Yanan metalları nə ilə söndürmək olar?

- A) Xüsusi təyinatlı tozlarla
- B) Ümumi təyinatlı tozlarla
- C) Köpüklə
- D) Su ilə
- E) Buxarla

Testin çətinlik dərəcəsi: çətin

İstinad: Yanğın təhlükəsizliyi haqqında Azərbaycan Respublikası Qanunu Bakı-1997 Azərbaycan Respublikasında yanğın təhlükəsizliyi qaydaları

141. Gərginlik altında olan avadanlıqlarda baş vermiş yanğıni söndürərkən ilk növbədə nə etmək lazımdır?

- A) Bölməni hermetikləşdirmək
- B) Qəza bölməsini və avadanlıqları cərəyandan ayırmaq
- C) Bölməni su ilə doldurmaq
- D) Koşma ilə üstünü bağlamaq
- E) Bölməni köpüklə doldurmaq

Testin çətinlik dərəcəsi: çətin

İstinad: Yanğın təhlükəsizliyi haqqında Azərbaycan Respublikası Qanunu Bakı-1997 Azərbaycan Respublikasında yanğın təhlükəsizliyi qaydaları

142. Yanğın həyəcan signalı verilərəkən hansı fəaliyyətləri yerinə yetirmək lazımdır?

- A) İşi dayandırmaq, toplantı məntəqəsinə getmək və növbəti komandanı gözləmək
- B) İşi davam etmək və heyətdən yanğının söndürülməsinə nümayəndə ayırmaq
- C) İşi dayandırmaq, əşyaları götürmək, otaqları bağlayıb ərazini tərk etmək
- D) Bölməni hermetikləşdirmək və sahil yanğınsöndürmə dəstələrini gözləmək

E) Yanğın yerini axtarmaq və onu söndürməyə başlamaq

Testin çətinlik dərəcəsi: çətin

İstinad: Yanğın təhlükəsizliyi haqqında Azərbaycan Respublikası Qanunu (Bakı-10.06.1997) Respublikasında yanğın təhlükəsizliyi qaydaları

143. Süni tənəffüs hansı yollar ilə verilir?

A) Yalnız ağızdan-ağıza

B) Yalnız ağızdan-buruna

C) Ağızdan-ağıza, ağızdan-buruna

D) Bədəni masaj etməklə

E) Əl və ayağı hərəkət etdirməklə

Testin çətinlik dərəcəsi: çətin

İstinad: Müəssisələrdə texniki təhlükəsizlik və əməyin mühafizəsinin təşkilinə dair mühüm aspektlər. Bakı, 2008

144. Peşə xəstəliyi nədir ?

A) Əmək qabiliyyətini qismən itirməklə nəticələnən xəstəlik

B) Əmək qabiliyyətini müvəqqəti itirməklə nəticələnən xəstəlik

C) Vəzifəsini yerinə yetirərkən aldığı zərərli amillərin təsirindən yaranmış xəstəlik

D) Əmək qabiliyyətini tam itirməklə nəticələnən xəstəlik

E) Əmək qabiliyyətini 3 gündən az olmayaraq itirməklə nəticələnən xəstəlik

Testin çətinlik dərəcəsi: orta

İstinad: Müəssisələrdə texniki təhlükəsizlik və əməyin mühafizəsinin təşkilinə dair mühüm aspektlər. Bakı, 2008

145. Bədbəxt hadisə baş verən zamanı ilk növbədə iş rəhbərinin vəzifəsi:

A) Zərərçəkənə heç bir kömək etməməli və rəhbərliyə xəbər verməli

B) Həmkarlar ittifaqı təşkilatına xəbər verməli və tibb məntəqəsinə çatdırılmalı

- C) Sanitariya-epidemioloji xidmətinə xəbər verməli və tibb məntəqəsinə çatdırılmalı
- D) Zərərçəkənə ilk tibbi yardım göstərilməli və tibb məntəqəsinə çatdırılmasını təşkil etməli və rəhbərliyə xəbər verməli
- E) Müəssisənin rəhbərliyinə və zərər çəkənin evinə məlumat verməli

Testin çətinlik dərəcəsi: orta

İstinad: Azərbaycan Neft Sənayesində Əməyin Mühafizəsinin Vahid İdarəetmə Sistemi. Bakı, 2004

146. Zərərli istehsalat amillərinin təsiri nəticəsində yaranan xəstəliyi:

- A) Peşə xəstəliyi
- B) Sarılıq xəstəliyi
- C) Sətəlcəm xəstəliyi
- D) Şəkər xəstəliyi
- E) Qızılça xəstəliyi

Testin çətinlik dərəcəsi: asan

İstinad: Azərbaycan Neft Sənayesində Əməyin Mühafizəsinin Vahid İdarəetmə Sistemi. Bakı, 2004

147. Hansı hündürlükdən başlayaraq “Yüksəklikdə görülən işlər” anlayışı qüvvəyə minir?

- A) 3.0 m
- B) 2.5 m
- C) 5.0 m
- D) 1.8m
- E) 2.10 m

Testin çətinlik dərəcəsi: asan

İstinad: Azərbaycan Respublikası Fövqəladə Hallar Nazirliyinin qərarı ilə 2016-cı ildə təsdiq edilib. Hündürlükdə iş zamanı texniki təhlükəsizlik Qaydaları. Bakı, 2016

148. Kollektiv mühafizə vasitələri nədir?

- A) Kənar şəxsləri qorumaq üçün tətbiq edilən vasitələr
- B) Tək bir adamı qorumaq üçün tətbiq edilən vasitələr
- C) Dəzgahları qorumaq üçün tətbiq edilən vasitələr
- D) Bütün sex işçilərini qorumaq üçün tətbiq edilən vasitələr
- E) İki və ya çox işçini qorumaq üçün tətbiq edilən vasitələr

Testin çətinlik dərəcəsi: asan

İstinad: Azərbaycan Respublikası Əmək Məcəlləsi. Bakı, 1999

149. Müəssisədə yanğın təhlükəsizliyi qaydalarına kimlər əməl etməlidir?

- A) Fəhlə və qulluqçuların hamısı
- B) Sex rəisi
- C) Qulluqçular
- D) Fəhlələr və aparatçılar
- E) Ustalar çilingərlər

Testin çətinlik dərəcəsi: asan

İstinad: Azərbaycan Respublikasında yanğın təhlükəsizliyi qaydaları. Bakı, 2001

150. Məişət və iş otaqlarında hansı elektrik cihazlarından istifadə etmək qadağandır?

- A) Slaydoskopdan, telefondan, printerdən

- B) Kompyuterdən, printerdən. Proyektordan
- C) Kompyuterdən, telefondan, printerdən, kondisionerdən
- D) Yüksək tezlikli sobadan, elektrik qızdırıcı cihazlardan, elektrik su qəfədanından
- E) Proektordan, kondisionerdən, slaydoskopdan

Testin çətinlik dərəcəsi: orta

İstinad: Azərbaycan Respublikasında yanğın təhlükəsizliyi qaydaları. Bakı, 2001

151. Fövqəladə hal baş verərsə hansı nömrəyə zəng etmək lazımdır?

- A) 112
- B) 104
- C) 102
- D) 103
- E) 101

Testin çətinlik dərəcəsi: çətin

İstinad: Fövqəladə Hallar Nazirliyinin qaynar xətti

152. Binalarda yanğına qarşı nə olmalıdır?

- A) Pillekan qəfəsində dəmir qapı
- B) Köçürmə sxemləri və işarələri, xəbərdarlıq plakatları, yanğınsöndürmə vasitələri
- C) Təlimatın keçirilməsi üçün xüsusi otaq
- D) Dəhlizdə qumla təchiz edilmiş yanğın lövhəsi
- E) Mərtəbələrdə əlavə nərdivanla

Testin çətinlik dərəcəsi: asan

İstinad: Azərbaycan Respublikasında yanğın təhlükəsizliyi qaydaları. Bakı, 2001

153. Yanğın baş verən zaman ilkin yanğınsöndürmə vasitələrindən kimlər istifadə etməlidir?

- A) Sex rəisi
- B) Növbə rəisi
- C) Fəhlə və qulluqçular
- D) Texnoloq
- E) Yanğın söndürmə komandiri

Testin çətinlik dərəcəsi: orta

İstinad: Azərbaycan Respublikasında yanğın təhlükəsizliyi qaydaları. Bakı, 2001

154. Yanğın aşkar etdikdə nə etməli?

- A) Dərhal bələdiyyəyə xəbər vermək
- B) Dərhal polis mühafizə bölməsinə xəbər vermək
- C) İcra hakimiyyətinə xəbər vermək
- D) Dərhal yanğından mühafizə bölməsinə xəbər vermək
- E) Dərhal əmək müfəttişliyinə xəbər vermək

Testin çətinlik dərəcəsi: çətin

İstinad: Azərbaycan Respublikasında yanğın təhlükəsizliyi qaydaları. Bakı, 2001

155. Fərdi mühafizə vasitələri hansılardır?

- A) Tənəffüs orqanları mühafizə vasitələri, dəri səthi mühafizə vasitələri və tibbi mühafizə vasitələri
- B) Görmək və eşitmək üçün mühafizə vasitələri
- C) Danışmaq üçün mühafizə vasitələri, dəri səthi mühafizə vasitələri
- D) Anlatmaq üçün mühafizə vasitələri, ayaq üçün mühafizə vasitələri
- E) İtdən və ilandan qorunmaq üçün mühafizə vasitələri

Testin çətinlik dərəcəsi: asan

İstinad: Azərbaycan Respublikası Əmək Məcəlləsi. Bakı, 1999